



復習シート 第4学年 算数

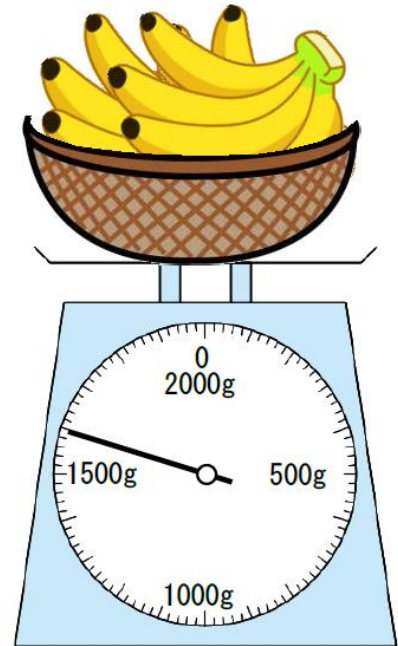
| | | | | | |
|---|--|----|--|----|--|
| 組 | | 番号 | | 名前 | |
|---|--|----|--|----|--|

（「量と測定」を問う問題）

1 次の問題を解きなさい。

レベル6・7（H30埼玉県学力・学習状況調査5・改）

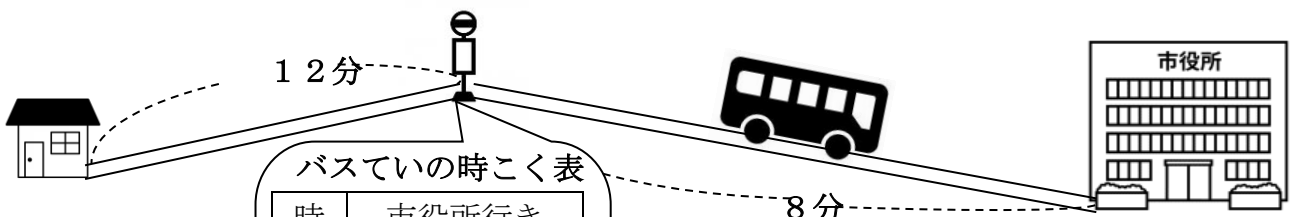
（1）重さ200gのかごにバナナをのせて、
重さをはかりではかったところ、右の図の
ようになりました。
バナナの重さは、何kg何gですか。



答え

kg g

（2）さちこさんは、家からバスによって市役所までいくことになりました。
さちこさんの家からバスでいまでは、歩いて12分かかります。バスでいから市役所
まではバスで8分かかります。
8時50分に家を出ると、一番早く市役所に着くのは何時何分ですか。




バスでいの時こく表

| 時 | 市役所行き |
|----|----------|
| 7 | 40 |
| 8 | 10 25 40 |
| 9 | 10 25 40 |
| 10 | 10 25 40 |

答え

時 分



復習シート 第4学年 算数



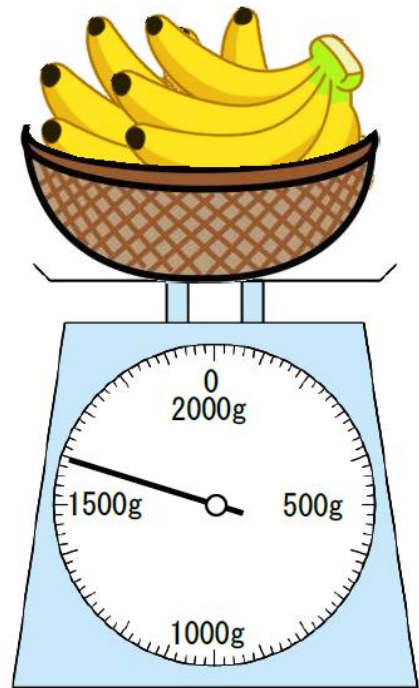
| | | | | | |
|---|--|----|--|----|-------------|
| 組 | | 番号 | | 名前 | 模範解答 |
| | | | | | |

（「量と測定」を問う問題）

1 次の問題を解きなさい。

レベル6・7（H30埼玉県学力・学習状況調査**5**・改）

（1）重さ200gのかごにバナナをのせて、
重さをはかりではかったところ、右の図の
ようになりました。
バナナの重さは、何kg何gですか。



答え
1 kg 400 g

（2）さちこさんは、家からバスにのって市役所までいくことになりました。
さちこさんの家からバスでいまでは、歩いて12分かかります。バスでいから市役所
まではバスで8分かかります。
8時50分に家を出ると、一番早く市役所に着くのは何時何分ですか。

バスでいの時こく表

| 時 | 市役所行き |
|----|----------|
| 7 | 40 |
| 8 | 10 25 40 |
| 9 | 10 25 40 |
| 10 | 10 25 40 |

答え
9 時 18 分

