



復習シート 第6学年 算数

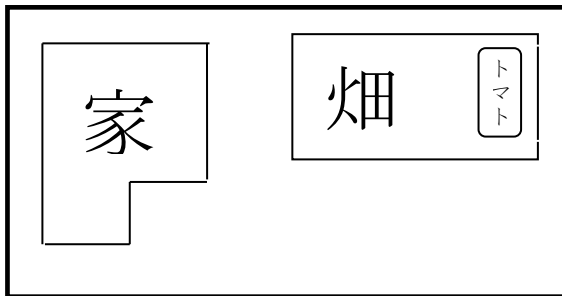
組		番 号		名 前	
---	--	--------	--	--------	--

（「数量関係」を問う問題）

1 次の問題を解きなさい。 **レベル8・9**（H22全国学力・学習状況調査A9）

(1) ゆういちさんの畑の面積は、土地全体の面積の30%にあたります。その中で、トマトときゅうりを育てていて、トマトを育てている面積は畑の面積の10%にあたります。

トマトを育てている面積は、土地全体の面積の何倍にあたりますか？次の1から4までの中から1つ選んで、その番号を書きましょう。



- 1 0.1倍
- 2 0.3倍
- 3 0.01倍
- 4 0.03倍

答え

(2) 畑の面積が24 m²のとき、土地全体の面積は何m²になりますか。

式



答え

m²

復習シート 第6学年 算数



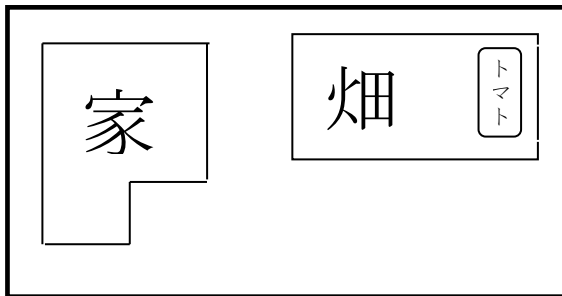
組		番 号		名 前	模範解答

（「数量関係」を問う問題）

1 次の問題を解きなさい。 **レベル8・9**（H22全国学力・学習状況調査A9）

（1）ゆういちさんの畑の面積は、土地全体の面積の30%にあたります。その中で、トマトときゅうりを育てていて、トマトを育てている面積は畑の面積の10%にあたります。

トマトを育てている面積は、土地全体の面積の何倍にあたりますか？次の1から4までの中から1つ選んで、その番号を書きましょう。



- 1 0.1倍
- 2 0.3倍
- 3 0.01倍
- 4 0.03倍


答え

4

（2）畑の面積が24㎡のとき、土地全体の面積は何㎡になりますか。

式

$$24 \div 0.3 = 80$$



答え

80 m²