


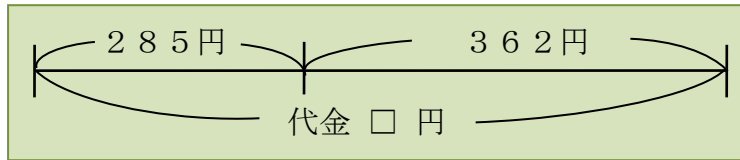


模範解答

( ) 年 ( ) 組 ( ) ばん

名前 ( )

- 1 285円のケーキと、362円のクッキーを  
 買います。代金だいきんはいくらになりますか。



285円



362円

	2	8	5
+	3	6	2
<hr/>			
	6	4	7

式：285 + 362

答え：647円

- 2 □にあてはまる数を書きましょう。  
 右の筆算で、

5 は、100 が5こあること

8 は、10 が8こあること

あらわ  
 を表している。

	4	2	3
+	1	6	4
<hr/>			
	5	8	7

- 3 つぎ  
 次の計算を筆算でしましょう。

(1) 364 + 125

	3	6	4
+	1	2	5
<hr/>			
	4	8	9

(2) 258 + 413

	2	5	8
+	4	1	3
<hr/>			
	6	7	1

(3) 724 + 81

	7	2	4
+		8	1
<hr/>			
	8	0	5

(4) 185 + 697

	1	8	5
+	6	9	7
<hr/>			
	8	8	2

(5) 506 + 297

	5	0	6
+	2	9	7
<hr/>			
	8	0	3

(6) 857 + 394

	8	5	7
+	3	9	4
<hr/>			
1	2	5	1



模範解答

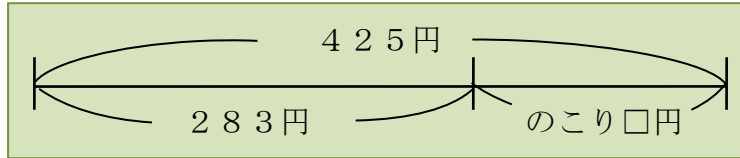
( ) 年 ( ) 組 ( ) ばん

名前 ( )

- 1 ひかるさんは、425円<sup>も</sup>を持って買い物に行きました。  
283円のキウイを買くと、のこりはいくらになりますか。



283円



式：425 - 283

	4	2	5
-	2	8	3
	1	4	2

答え：142円

- 2 つぎの計算を筆算でしましょう。

(1) 738 - 412

	7	3	8
-	4	1	2
	3	2	6

(2) 594 - 267

	5	9	4
-	2	6	7
	3	2	7

(3) 315 - 149

	3	1	5
-	1	4	9
	1	6	6

(4) 406 - 238

	4	0	6
-	2	3	8
	1	6	8

(5) 603 - 547

	6	0	3
-	5	4	7
		5	6

(6) 201 - 9

	2	0	1
-			9
	1	9	2

- 3 □に数を入れて、正しい筆算をつくりましょう。

(1)

	3	6	8
+	1	4	4
	5	1	2

(2)

	8	0	4
-	1	6	5
	6	3	9



模範解答

( ) 年 ( ) 組 ( ) ばん

名前 ( )

- 1 ゆうえんち 遊園地の今日のにゆうじょうしゃすう 入場者数は、きのうより182人少なく、853人でした。  
この遊園地の、きのうの入場者数は何人ですか。

式：853 + 182

	8	5	3
+	1	8	2
<hr/>			
1	0	3	5

答え：1035人

- 2 1000円さつを出して、739円のカーネーションを  
買いました。おつりはいくらになりますか。



739円

式：1000 - 739

	1	0	0	0
-		7	3	9
<hr/>				
		2	6	1

答え：261円

- 3 つぎ 次の計算を筆算でしましょう。

(1) 2584 + 1376

	2	5	8	4
+	1	3	7	6
<hr/>				
	3	9	6	0

(2) 4193 - 2508

	4	1	9	3
-	2	5	0	8
<hr/>				
	1	6	8	5

- 4 次の筆算はまちがっています。その理由をせつ明して、正しい答えをもとめましょう。

せつ明

(例) 十の位の計算で、百の位から十の位に1くり下げているのに、百の位の計算で、4-3をしてしまっている。

	4	7	2
-	3	9	0
<hr/>			
	1	8	2

正しい答え：82