

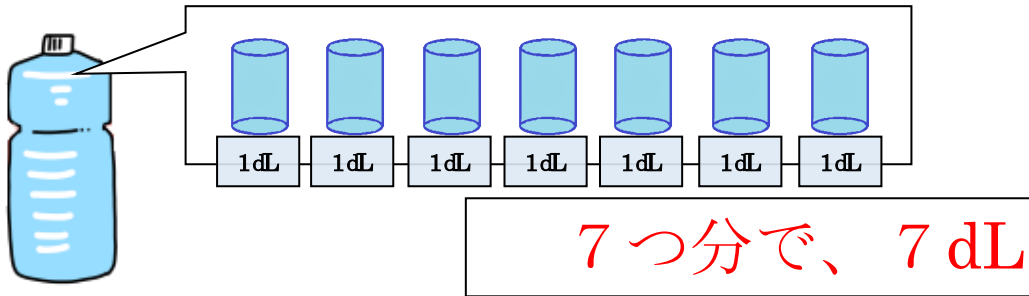


模範解答

() 年 () 組 () ばん

名前 ()

- 1 下の ペットボトルに 入る 水のかさは、1 dL の いくつ分で、
なん
 何 dL ですか。



- 2 ゆうとさんと かえでさんが 水のかさについて はな あ 話し合っています。
 □に かず か あてはまる 数を 書きましょう。



ゆうと

1 L は、1 dL を **10** あつめた
かさです。



かえで

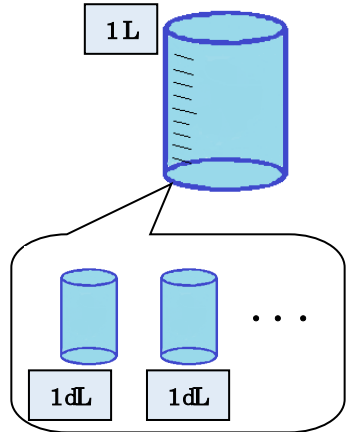
1 L = **10** dL と
あらわす ことができます。



3 L は、1 L の **3** つ分の かさです。

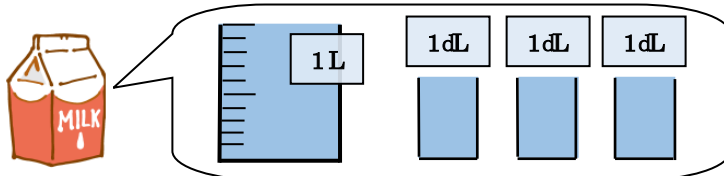


3 L と **30** dL は、水のかさが
おな
同じと いえます。



- 3 つぎの ものに 入る 水のかさを、それぞれ ㊦と ㊧の
かた こた
 あらわし方で 答えましょう。

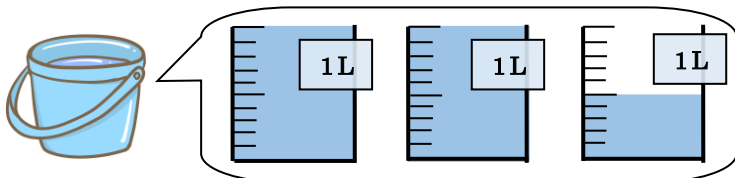
(1)



㊦ **1** L **3** dL

㊧ **13** dL

(2)



㊦ **2** L **5** dL

㊧ **25** dL



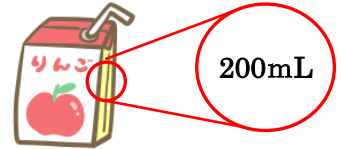
模範解答

() 年 () 組 () ばん

名

前 ()

1 右の ような りんごジュースが あります。
つぎの もんだいに 答えましょう。

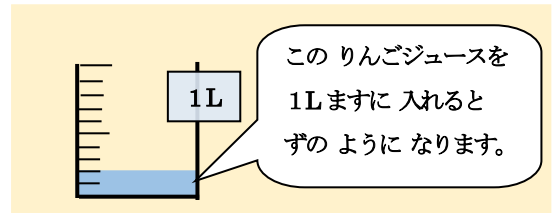


(1) □に あてはまる 数を 書きましょう。

1 L = 1000 mL

(2) この りんごジュース 何本で 1Lに
なりますか。

5 本



(4) □に あてはまる 数を 書きましょう。

200mL = 2 dL

※1Lますの めもり 1つ分は、100mL となる。
100mLと 1dLは、水の かさは 同じである。

2 つぎの 計算を しましょう。

(1) 3 L + 1 L 5 dL

4 L 5 dL

(2) 3 L 5 dL - 2 L

1 L 5 dL

(3) 2 L 3 dL + 5 dL

2 L 8 dL

(4) 4 L 6 dL - 1 dL

4 L 5 dL

3 □に あてはまる >か <を 書きましょう。

(1) 2 L > 15dL

(2) 800mL < 1 L

4 () に あてはまる、かさの たんいを 書きましょう。

(1) かんジュース・・・350 (mL)

(2) ポットに 入る 水・・・3 (L)