



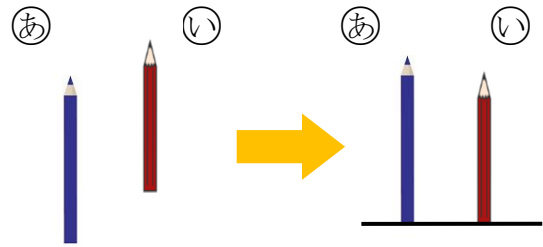
模範解答

(       ) ねん (       ) くみ (       ) ばん  
 なまえ (       )

1 ①の えんぴつと ②の えんぴつの  
 ながさを くらべました。

(1) ①と ②の どちらが  
 ながいでしょうか。

①



(2) どのように して くらべて いますか。

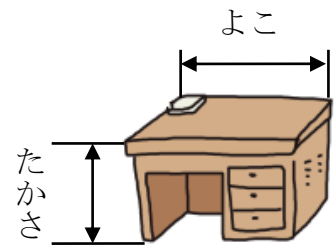
①、②、③の なかから 1つ えらんで こたえましょう。

- ① はしを そろえて くらべて いる。
- ② まっすぐに のぼして くらべて いる。
- ③ おって かさねて くらべて いる。

①


2 つくえの たかさと よこの ながさを くらべるのに  
 ただしい しらべかたを ①から ⑤の なかから  
 2つ えらんで こたえましょう。

- ① はしを そろえて くらべる。
- ② テープに うつしとって、ながさを くらべる。
- ③ おって かさねて くらべる。
- ④ ゆびを ひろげた ながさが、いくつぶん  
 なるかで くらべる。



②、④

3 いろいろな ものの ながさを テープに うつしとって くらべました。



(1) ロッカーの はばと すいそうの ふかさは、  
 どちらが ながいでしょうか。

ロッカーの はば

(2) いちばん ながいのは どれでしょうか。

いすの たかさ

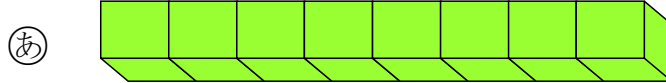


模範解答

(       ) ねん (       ) くみ (       ) ばん

なまえ (       )

1 ゆみさんは、**あ**と **い**の どちらが ながいかを せつめい しました。



(1) □に はいる かずを かきましょう。

(2) **あ**と **い**の どちらが ながいでしょうか。

(ゆみさんの せつめい)

**あ**は、ブロック **8** つぶんの ながさです。

**い**は、ブロック **7** つぶんの ながさです。

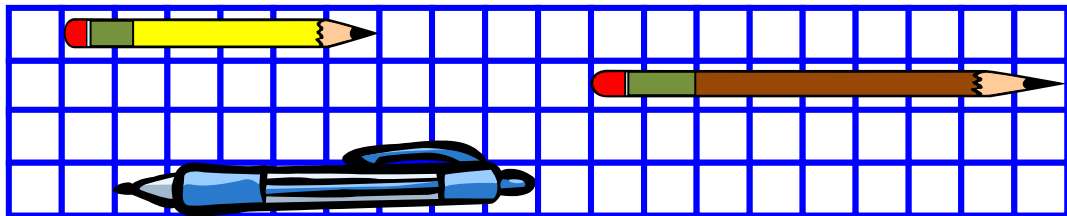
だから、 ? の ほうが ながいです。

こたえ

**あ**

2 つぎの もんだいに こたえましょう。

**あ**



**い**

**う**

(1) **あ**、**い**、**う**は、それぞれ ますの いくつぶんの ながさですか。

**あ** ますの **6** つぶんの ながさ

**い** ますの **8** つぶんの ながさ

**う** ますの **9** つぶんの ながさ

(2) **あ**と **う**では、どちらが どれだけ ながいですか。

(例) **う**が ます **3**つぶん ながい。