




(       ) ねん (       ) くみ (       ) ばん

なまえ (       )

1 ㊦と ㊩に はいる みずは、  
どちらが おおいでしょうか。

㊦に はいって いる みずを  
㊩に いたら みずは  
あふれて しまいました。



2 ㊵と ㊶に はいる みずは、  
どちらが おおいでしょうか。

㊶には まだ みずが  
いれます。



3 ㊦と ㊧に はいって いる みずは、  
どちらが おおいでしょうか。  
また、その わけを  
かきましょう。


㊦と ㊧は おなじ  
いれもの です。



わけは、みずの \_\_\_\_\_ を くらべると  
\_\_\_\_\_ の ほうが たかいから です。

4 ㊷と ㊸に はいって いる みずは、  
どちらが おおいでしょうか。

㊷と ㊸の みずの  
たかさは おなじ です。





( ) ねん ( ) くみ ( ) ばん



なまえ ( )

1 ㊸と ㊹にはいっている みずは、  
 どちらが どれだけ おおいか、  
 けんたさんと まみさんは、  
 くらべかたを かんがえました。  
 □にはいる ことばや かずを  
 かきましよう。



けんた

おなじ おおきさの <sup>こップ</sup> コップを  
 つかって みずの かさを  
 くらべる ことが できます。



まみ

㊸は、コップ □ ぱい ぶん

㊹は、コップ □ はい ぶん です。



けんた

□ の ほうが、コップ □ はい ぶん  
 みずが おおく はいって います。

2 はいって いる みずが おおい じゆんに かきましよう。

