



模範解答


() ねん () くみ () ばん

なまえ ()

1 ㊦と ㊧に はいる みずは、
どちらが おおいでしょうか。



㊦に はいって いる みずを
㊧に いれたら みずは
あふれて しまいました。



2 ㊨と ㊩に はいる みずは、
どちらが おおいでしょうか。



㊩には まだ みずが
いれられます。



3 ㊪と ㊫に はいって いる みずは、
どちらが おおいでしょうか。
また、その わけを
かきましょう。



㊪と ㊫は おなじ
いれもの です。




わけは、みずの たかさ を くらべると
お の ほうが たかいから です。

4 ㊬と ㊭に はいって いる みずは、
どちらが おおいでしょうか。



㊬と ㊭の みずの
たかさは おなじ です。





模範解答

() ねん () くみ () ばん



なまえ ()

1 ㊦と ㊧に はいって いる みずは、
 どちらが どれだけ おおいか、
 けんたさんと まみさんは、
 くらべかたを かんがえました。
 □に はいる ことばや かずを
 かきましょう。



けんた

おなじ おおきさの ^{こップ} コップを
 つかって みずの かさを
 くらべる ことが できます。



まみ

㊦は、コップ **6** ぱい ぶん

㊧は、コップ **4** はい ぶん です。



けんた

㊦ の ほうが、コップ **2** はい ぶん
 みずが おおく はいって います。

2 はいって いる みずが おおい じゅんに かきましょう。

