

埼玉県学力・学習状況調査（中学校）

復習シート 第1学年 数学

埼玉県学力・学習状況調査



組		番 号		名 前	
---	--	--------	--	--------	--

（「数と計算」を問う問題）

1 次の問題を解きなさい。

(1) ぶどうジュースの値段は180円です。ぶどうジュースの値段はりんごジュースの値段の $\frac{9}{8}$ 倍です。りんごジュースの値段を求めなさい。

レベル9

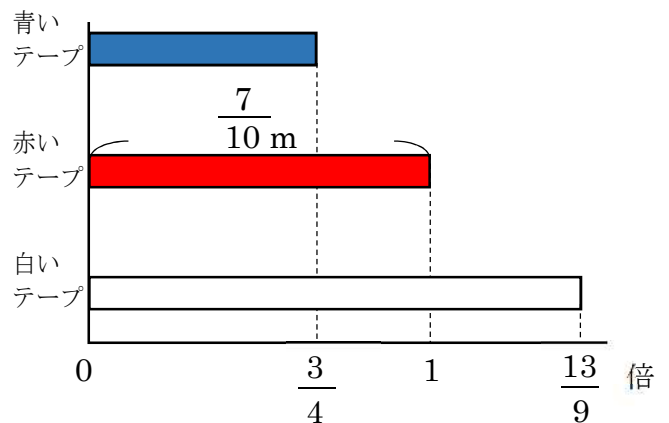
答え

円

(2) 赤いテープの長さをもとにして、青いテープと白いテープの長さを求めます。テープの長さを求める式として正しいものを次のアからエの中から2つ選びなさい。

レベル8

- ア 青いテープの長さ $\frac{7}{10} \times \frac{3}{4}$
- イ 青いテープの長さ $\frac{7}{10} \times \frac{3}{4}$
- ウ 白いテープの長さ $\frac{7}{10} \times \frac{13}{9}$
- エ 白いテープの長さ $\frac{7}{10} \times \frac{13}{9}$



答え

と

2 次の問題を解きなさい。

(1) $2.5 - \frac{5}{6} \div \frac{5}{9}$

レベル8

答え


(2) ある分数に $\frac{2}{7}$ をたすと答えが $\frac{9}{14}$ になりました。ある分数を $\frac{10}{21}$ でわった

とき、答えを求めなさい。

レベル8

答え

埼玉県学力・学習状況調査



復習シート 第1学年 数学

埼玉県学力学習状況調査



組		番号		名前		模範解答
---	--	----	--	----	--	-------------

（「数と計算」を問う問題）

1 次の問題を解きなさい。

(1) ぶどうジュースの値段は180円です。ぶどうジュースの値段はりんごジュースの値段の $\frac{9}{8}$ 倍です。りんごジュースの値段を求めなさい。 **レベル9**

$$\square \times \frac{9}{8} = 180$$

$$\square = 180 \div \frac{9}{8}$$

$$\square = 180 \times \frac{8}{9}$$

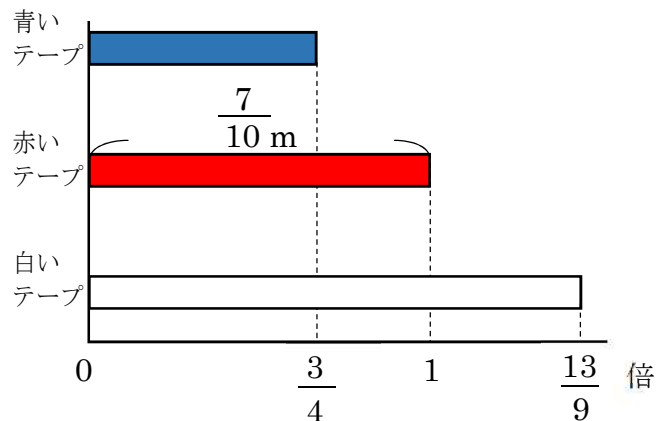
$$\square = 160$$

答え

160 円

(2) 赤いテープの長さをもとにして、青いテープと白いテープの長さを求めます。テープの長さを求める式として正しいものを次のアからエの中から2つ選びなさい。 **レベル8**

- ア 青いテープの長さ $\frac{7}{10} \times \frac{3}{4}$
- イ 青いテープの長さ $\frac{7}{10} \times \frac{3}{4}$
- ウ 白いテープの長さ $\frac{7}{10} \times \frac{13}{9}$
- エ 白いテープの長さ $\frac{7}{10} \times \frac{13}{9}$



答え

ア と ウ

もとにする量が赤いテープなので、赤いテープの長さにそれぞれの割合をかければ、青いテープと白いテープの長さが求められます。

2 次の問題を解きなさい。

(1) $2.5 - \frac{5}{6} \div \frac{5}{9}$ **レベル8**

わり算から計算するので商は $\frac{3}{2}$ になります。 $\frac{3}{2} = 1.5$ なので、2.5から1.5をひくと差が1になります。

答え

1

(2) ある分数に $\frac{2}{7}$ をたすと答えが $\frac{9}{14}$ になりました。ある分数を $\frac{10}{21}$ でわったとき、答えを求めなさい。 **レベル8**

$$\square + \frac{2}{7} = \frac{9}{14}$$

$$\square = \frac{9}{14} - \frac{2}{7}$$

$$\square = \frac{5}{14}$$

$$\frac{5}{14} \div \frac{10}{21} = \frac{5 \times 21}{14 \times 10}$$

$$= \frac{3}{4}$$

答え

$\frac{3}{4}$

埼玉県学力学習状況調査

