

復習シート 第1学年 数学



組		番号		名前	
---	--	----	--	----	--

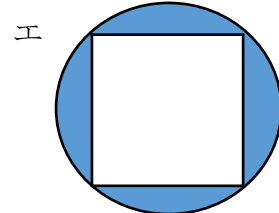
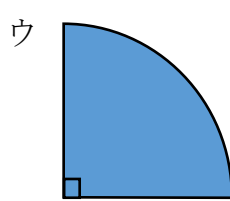
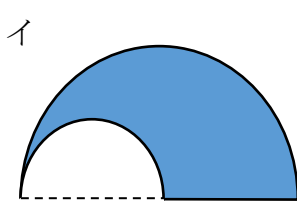

(「図形」を問う問題)

1 次の問題を解きなさい。

レベル9

(1) 次の図形は全て円の一部分です。

図形の色を塗った部分の面積が $\text{半径} \times \text{半径} \times 3.14 \div 4$ の式で面積を求められる図形はどれでしょう。ア～エの中から選びましょう。



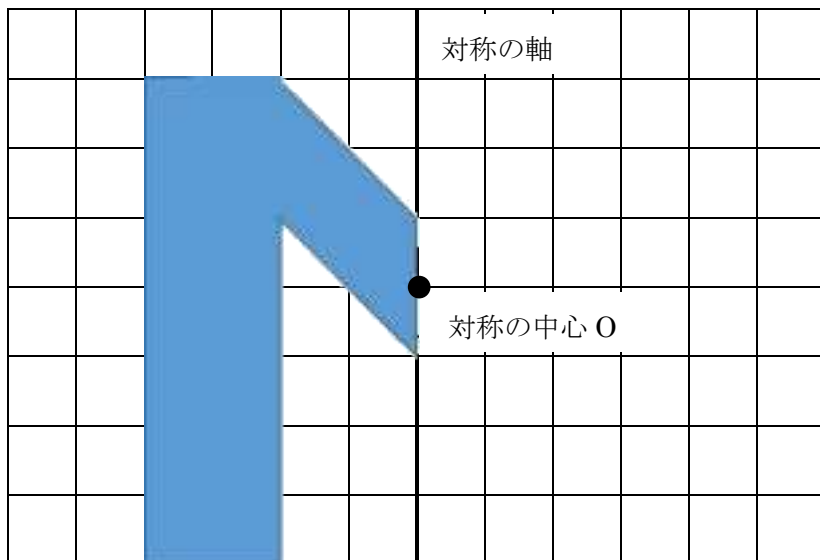
答え

レベル6

2 次の文の中のア, イに当てはまる選択肢の組み合わせの正しいものをア～エの中から選びましょう。※この用紙の向きはそのまま考えます。

下の図形を使ってできる線対称な図形はアルファベットの (1) で、
点対称な図形はアルファベットの (2) です。

ア M イ N ウ W エ Z



(1) 答え

(2) 答え