



復習シート 第2学年 数学

組		番 号		名 前	
---	--	--------	--	--------	--

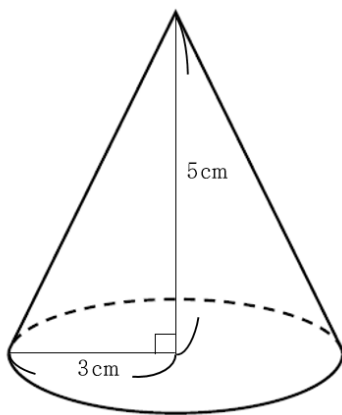
模範解答

（「図形」を問う問題）

1 次の問題を解きなさい。

（1）下の図のような円錐の体積を求めなさい。

レベル8・9（H30埼玉県学力・学習状況調査3）（3）・改



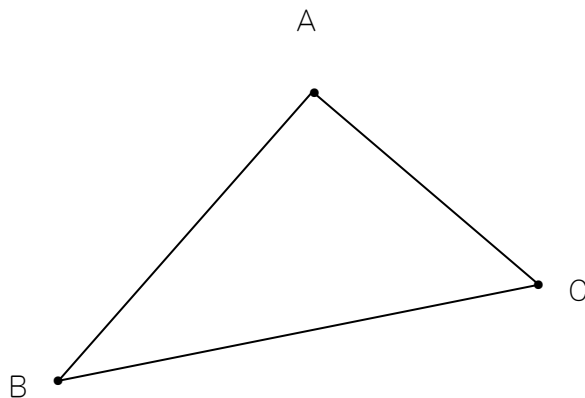
$$3 \times 3 \times \pi \times 5 \times \frac{1}{3} = 15\pi$$

答え

15π cm³

（2）下の図の3本の線分AB、BC、CAから等しい距離にある点Pを作図します。

レベル8・9（H30埼玉県学力・学習状況調査4）（2）・改



点Pの位置として正しい物を次の1から4の中から1つ選びなさい。

- 1 ∠ABCの二等分線と辺ACの交点
- 2 辺ABの垂直二等分線と辺BCの垂直二等分線の交点
- 3 ∠ABCの二等分線と∠BCAの二等分線の交点
- 4 ∠ABCの二等分線と辺ACの垂直二等分線の交点

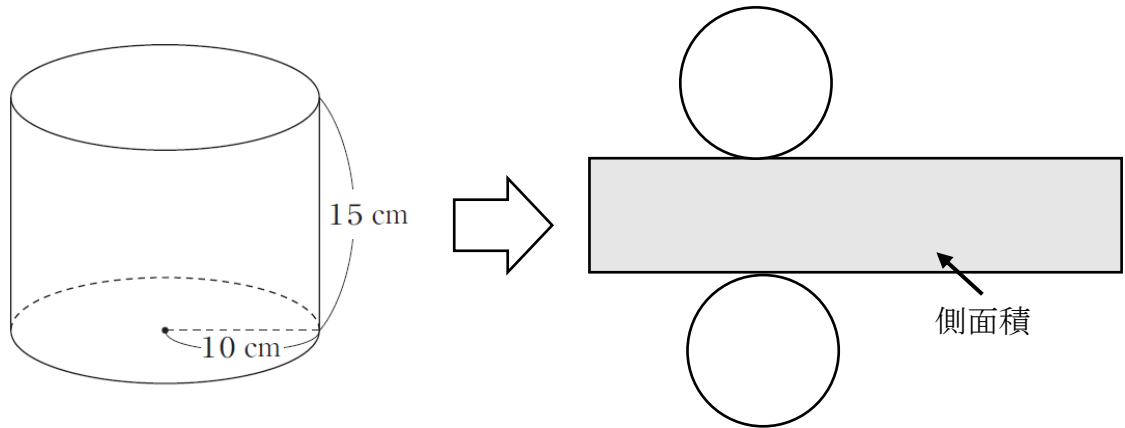
答え

3

(3) 底面の円の半径が10cmで、高さが15cmの円柱があります。

この円柱の側面積を求める式として正しいものを、次の1から4の中から1つ選び、その番号を書きなさい。

レベル5~7 (H22全国学力・学習状況調査5) (4)・改



1 $15 \times 2 \times \pi \times 10$

2 $15 \times \pi \times 10^2$

3 15×20

4 15×10

答え

1