

復習シート 第1学年 数学



組		番 号		名 前	
---	--	--------	--	--------	--

（「量と測定」を問う問題）

- 1 まことさんは、使いやすいはしの長さのめやすについて発表します。




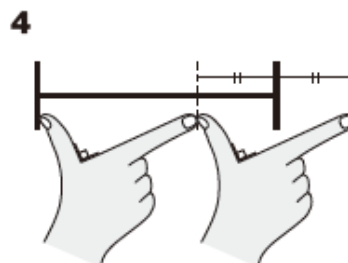
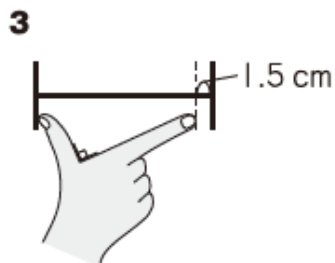
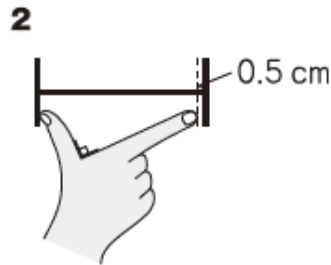
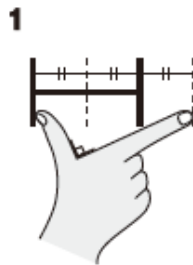
使いやすいはしの長さのめやす

使いやすいはしの長さのめやすは、「一あた半」と言われています。

一あたは、親指と人差し指を直角に広げたときのそれぞれの指先を結んだ長さです。

一あた半は、**一あた**を1.5倍した長さです。

下の1から4までの中から、一あた半の長さを表しているもの（)を1つ選んで、その番号を書きましょう。



レベル7・8 (H26全国学力・学習状況調査B5)

答え

4