

埼玉県学力・学習状況調査（小学校）

復習シート 第6学年 算数



組		番 号		名 前	
---	--	--------	--	--------	--

（「数と計算」を問う問題）

1 次の計算をしましょう。

レベル4～6

(1) 254×2.7

(2) $7.5 \div 0.6$

答え

答え

(3) $\frac{1}{4} + \frac{2}{9}$

(4) $0.4 - \frac{2}{7}$

答え

答え

2 次の分数を小数や整数で表しましょう。

レベル7

(1)

(2)

(3)

$\frac{2}{5}$

$\frac{42}{6}$

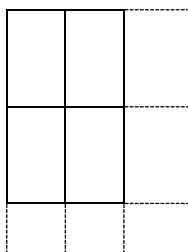
$\frac{35}{4}$

答え

答え

答え

3 たて10cm、横6cmの長方形の色紙があります。この長方形の色紙をすきまなくしきつめて正方形を作るとき、いちばん小さいものの1辺の長さは何cmになりますか。



レベル7

答え

cm

- 4 次の計算をします。ア、イ、ウのどの計算のきまりを使って計算しますか。また、答えはいくつになりますか。

レベル6

$$3.6 \times 12.5 \times 4$$

- ア $(\bigcirc \times \blacksquare) \times \triangle = \bigcirc \times (\blacksquare \times \triangle)$
 イ $(\bigcirc + \blacksquare) \times \triangle = \bigcirc \times \triangle + \blacksquare \times \triangle$
 ウ $(\bigcirc - \blacksquare) \times \triangle = \bigcirc \times \triangle - \blacksquare \times \triangle$

計算のきまり

答え

- 5 答えが3以上になる式を、下のアからオまでの中からすべて選んで、その記号を書きましょう。

レベル7

ア 3×0.3 イ 1.5×1.5 ウ $3 \div 0.3$

エ $0.3 \div 0.1$ オ $\frac{1}{3} + \frac{2}{3}$

答え

- 6 長さが2.4 mの黄のテープがあります。次の問題に答えましょう。

レベル7・8

- (1) 赤のテープの長さは、黄のテープの長さの2.5倍です。赤のテープの長さを求めましょう。

答え

m

- (2) 黄のテープの長さは、青のテープの長さの0.8倍です。青のテープの長さを求めましょう。

答え

m

埼玉県学力・学習状況調査 (小学校)

復習シート 第6学年 算数



組		番号		名前		模範解答
---	--	----	--	----	--	-------------

(「数と計算」を問う問題)

1 次の計算をしましょう。

レベル4~6

(1) 254×2.7

(2) $7.5 \div 0.6$

答え
685.8

答え
12.5

(3) $\frac{1}{4} + \frac{2}{9}$

(4) $0.4 - \frac{2}{7}$

$0.1 = \frac{1}{10}$
なので
 $0.4 = \frac{4}{10}$

$$\begin{aligned} & \frac{1}{4} + \frac{2}{9} \\ &= \frac{9}{36} + \frac{8}{36} \\ &= \frac{17}{36} \end{aligned}$$

$$\begin{aligned} &= \frac{4}{10} - \frac{2}{7} \\ &= \frac{2}{5} - \frac{2}{7} \\ &= \frac{14}{35} - \frac{10}{35} \\ &= \frac{4}{35} \end{aligned}$$

答え
 $\frac{17}{36}$

答え
 $\frac{4}{35}$

2 次の分数を小数や整数で表しましょう。

レベル7

(1)

(2)

(3)

$\frac{2}{5}$

答え **0.4**

$\frac{42}{6}$

答え **7**

$\frac{35}{4}$

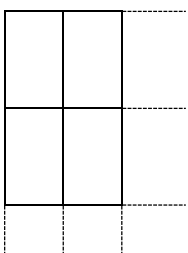
答え **8.75**

$$\frac{2}{5} = 2 \div 5 = 0.4$$

$$\frac{42}{6} = 42 \div 6 = 7$$

$$\frac{35}{4} = 35 \div 4 = 8.75$$

3 たて10cm、横6cmの長方形の色紙があります。この長方形の色紙をすきまなくしきつめて正方形を作るとき、いちばん小さいものの1辺の長さは何cmになりますか。レベル7



【10と6の最小公倍数を考える】

たての辺の長さ(10の倍数) 10cm 20cm **30cm** 40cm ...

横の辺の長さ(6の倍数) 6cm 12cm 18cm 24cm **30cm** 36cm ...

色紙をたてに3枚、横に5枚ならべたとき、
辺の長さは、たて、横ともに30cmになります。

答え **30cm**

- 4 次の計算をします。ア、イ、ウのどの計算のきまりを使って計算しますか。また、答えはいくつになりますか。 レベル6

$$3.6 \times 12.5 \times 4$$

- ア $(\bigcirc \times \blacksquare) \times \triangle = \bigcirc \times (\blacksquare \times \triangle)$
 イ $(\bigcirc + \blacksquare) \times \triangle = \bigcirc \times \triangle + \blacksquare \times \triangle$
 ウ $(\bigcirc - \blacksquare) \times \triangle = \bigcirc \times \triangle - \blacksquare \times \triangle$

計算のきまり **ア**

答え **180**

$$3.6 \times 12.5 \times 4 = 3.6 \times (12.5 \times 4) = 3.6 \times 50 = 180$$

- 5 答えが3以上になる式を、下のアからオまでの中からすべて選んで、その記号を書きましょう。 レベル7

ア 3×0.3

イ 1.5×1.5

ウ $3 \div 0.3$

$$3 \times 0.3 = 0.9$$

$$1.5 \times 1.5 = 2.25$$

$$3 \div 0.3 = 10$$

エ $0.3 \div 0.1$

オ $\frac{1}{3} + \frac{2}{3}$

答え

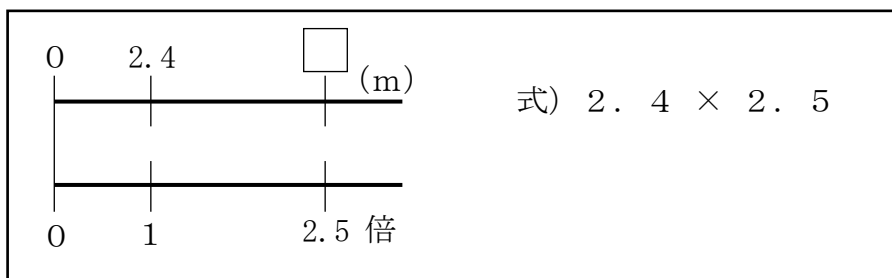
$$0.3 \div 0.1 = 3$$

$$\frac{1}{3} + \frac{2}{3} = \frac{3}{3} = 1$$

ウ、エ

- 6 長さが2.4mの黄のテープがあります。次の問題に答えましょう。 レベル7・8

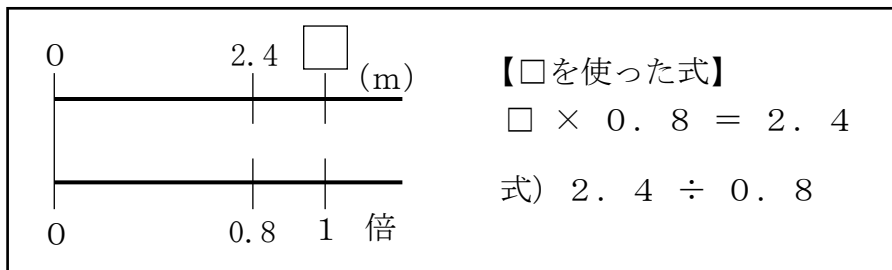
(1) 赤のテープの長さは、黄のテープの長さの2.5倍です。赤のテープの長さを求めましょう。



答え

6 m

(2) 黄のテープの長さは、青のテープの長さの0.8倍です。青のテープの長さを求めましょう。



答え

3 m