

埼玉県学力・学習状況調査（小学校）

復習シート 第4学年 算数



組		番 号		名 前	
---	--	--------	--	--------	--

（「数と計算」を問う問題）

1 次の計算をしましょう。

レベル5

(1) 207×57

(2) $7 - 1.6$

答え

答え

2 次の□にあてはまる数を次のアからエの中から1つえらびましょう。

レベル3～5

(1) $7400 = 8000 - \square$

ア 60

イ 400

ウ 600

エ 1000

答え

(2) 0.1を104個あつめた数は \square

ア 1.4

イ 10.4

ウ 104

エ 1040

答え

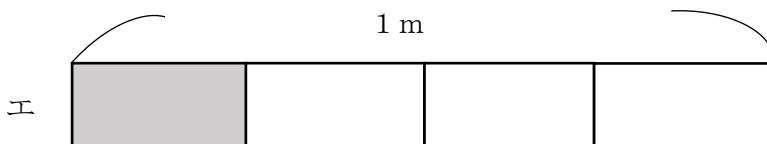
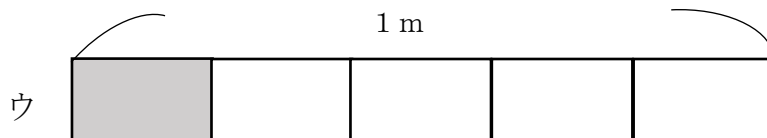
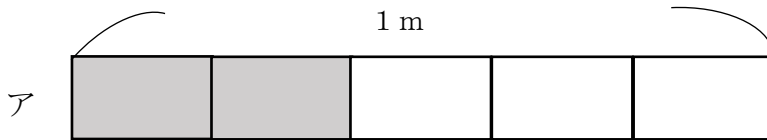
3 次の問題に答えましょう。

レベル4・5

- (1) 10個で940円のえんぴつがあります。このえんぴつ1本のねだんは何円ですか。答えを書きましょう。

答え

- (2) リボンを $\frac{1}{5}$ m使います。リボンの長さとして、正しいものを次のアからエの中から1つえらびましょう。



答え