

# 復習シート 第4学年 算数



組		番号		名前		<b>模範解答</b>
---	--	----	--	----	--	-------------

（「数と計算」を問う問題）

1 次の計算をしましょう。

(1)  $0 \div 7$

**レベル2**

0を0でないどんな数でわっても、答えはいつも0。

答え

**0**

(2)  $27 - 1.7$

**レベル6**

筆算は位をそろえて書く。

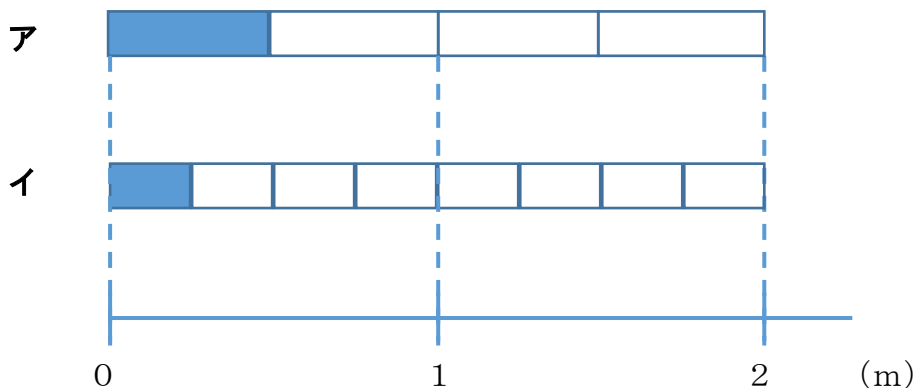
$$\begin{array}{r} 27 \\ - 1.7 \\ \hline 25.3 \end{array}$$

答え

**25.3**

2  $\frac{1}{4}$ mの長さを表しているものは、次のア、イのどちらですか。

**レベル7**



$\frac{1}{4}$ mは、1mをもとの長さとし、4等分した1こ分の長さ。

答え

**イ**

3 240 cmのリボンを10 cmずつ切ります。10 cmのリボンは何本できますか。

レベル5

240 cmのリボンを10 cmずつ分けていくことになるので、  
 $240 \div 10 = 24$   
 一の位が0の数を10でわると、位が1つずつ下がり、一の位の0をとった数になる。

答え

**24本**

4 次の問題に答えましょう。

(1) 380000は1万を何こ集めた数ですか。

レベル5


10万は1万が10こだから、30万は1万が30こ。  
 8万は1万が8こ。

答え

**38こ**

(2)  ,  にあてはまる数を書きましょう。

レベル2



2つ分のめもりで、  
 $9000万 - 7000万 = 2000万$   
 増えているので、1めもりの大きさは  
 1000万。  
 1000万が10こで1億。

答え①

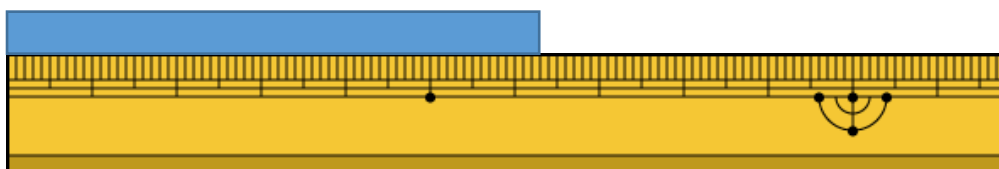
**8000万**

答え②

**1億**

(3) 下のテープは、何cmですか。小数で答えましょう。

レベル5



1 mm は、1 cm を10等分した長さ。

↓

$1 \text{ mm} = 0.1 \text{ cm}$

答え

**6.3 cm**



- 5 1箱におかしが7こ入る箱がいくつかあります。50このおかしをその箱につめて入れたところ、8このおかしが残りしました。箱は何箱あったでしょう。

レベル4

$50 - 8 = 42$  ← 箱につめたおかしの数

$42 \div 7 = 6$  ← 箱の数

答え

6箱

- 6 下の問題を、答えを「 $15 + 3$ 」「 $15 - 3$ 」「 $15 \times 3$ 」「 $15 \div 3$ 」で求める問題に分け、問題の記号を書きましょう。

レベル4

ア あめが15こあります。友だちに3こあげると、あめは何こになるでしょう。

イ 3人の友だちに、あめを15こずつ分けました。あめは全部で何こですか。

ウ あめが15こあります。3人で同じ数ずつ分けると、一人分は何こになりますか。

エ お父さんの年れいは、15才のたかし君の3倍です。お父さんは何才ですか。

オ 15才のたかし君には、3つ年上のお姉さんがいます。お姉さんは何才ですか。

カ 15才のたかし君は、弟の年れいの3倍です。弟は何才ですか。

$15 + 3$ で求める問題

オ

$15 - 3$ で求める問題

ア

$15 \times 3$ で求める問題

イ, エ

$15 \div 3$ で求める問題

ウ, カ

