



# 復習シート 第4学年 算数

組			番 号		名 前	
---	--	--	--------	--	--------	--

（「数と計算」を問う問題）

1 次の計算をしましょう。

(1)  $6293 + 1407$

(2)  $1 - \frac{7}{9}$

レベル2・3

答え

レベル4

答え

2 次の□にあてはまる等号や不等号を、下のア～ウの中から1つ選びましょう。

レベル1


$$\frac{7}{8} \quad \square \quad \frac{5}{8}$$

ア =

イ >

ウ <

答え



3 次の問題に答えましょう。

(1) 10<sup>こ</sup>個で680円のみかんがあります。このみかん100個のねだんは何円ですか。答えを書きましょう。レベル6

答え

円

(2) チョコレートが15個入ったふくろが5ふくろあります。チョコレート全部で何個ありますか。答えを書きましょう。レベル3・4

答え

個

(3) けんたさんは、折り紙<sup>おりがみ</sup>を24枚、ゆかさんは、折り紙<sup>まい</sup>を6枚持っています。けんたさんの持っている折り紙の数は、ゆかさんの持っている折り紙の数の何倍ですか。

この問題の答えを求めるための式を、下のアからエの中から1つえらびましょう。レベル4・5

ア  $24 + 6$

イ  $24 - 6$

ウ  $24 \times 6$

エ  $24 \div 6$

答え

# 復習シート 第4学年 算数

埼玉県学力・学習状況調査



組		番 号		名 前	
---	--	--------	--	--------	--

（「量と測定」を問う問題）

1 次の時間をもとめましょう。

（1）90秒は何分何秒ですか。 **レベル4**

答え

分 秒

（2）1分10秒は何秒ですか。 **レベル4**

答え

秒

2 次の問題に答えましょう。

（1）2360mは何km何mですか。次のアからエの中から1つえらびましょう。

**レベル5・6**

- ア 2km36m
- イ 2km360m
- ウ 23km60m
- エ 23km6m

答え

（2）3km50mは何mですか。次のアからエの中から1つえらびましょう。

**レベル5・6**

- ア 35m
- イ 350m
- ウ 3500m
- エ 3050m

答え

3 次の問題に答えましょう。

(1) 教科書のあつさに近いものを、次のアからエの中から1つえらびましょう。

レベル4・5

- ア 5 m m
- イ 5 c m
- ウ 5 m
- エ 5 k m

答え

(2) 1時間に歩ける道のりを、次のアからエの中から1つえらびましょう。

レベル4・5

- ア 4 m m
- イ 4 c m
- ウ 4 m
- エ 4 k m

答え

埼玉県学力学習状況調査



コハクン

# 復習シート 第4学年 算数

埼玉県学力学習状況調査



コハトン

組		番号		名前	
---	--	----	--	----	--

（「図形」を問う問題）

- 1 次のアからエの中で、正三角形を1つえらびましょう。 **レベル2・3**

- ア 辺の長さが4 cm, 4 cm, 4 cmの三角形  
 イ 辺の長さが4 cm, 5 cm, 6 cmの三角形  
 ウ 辺の長さが5 cm, 5 cm, 3 cmの三角形  
 エ 辺の長さが5 cm, 6 cm, 6 cmの三角形

答え

- 2 下のアからウの角の大きさをくらべて、大きいじゅんにかきましょう。 **レベル3**

答え


→ →

ア

ウ

イ

埼玉県学力学習状況調査



コハトン

# 復習シート 第4学年 算数

埼玉県学力学習状況調査



組		番 号		名 前	
---	--	--------	--	--------	--

（「数量関係」を問う問題）

1 次の問題に答えましょう。

(1) あめが23個ありました。友だちとみんなで何個か食べたので、15個のこり  
ました。

食べたあめの数を□個として式に表したものを、次のアからエの中から1つえ  
らびましょう。レベル5・6

ア  $\square - 23 = 15$

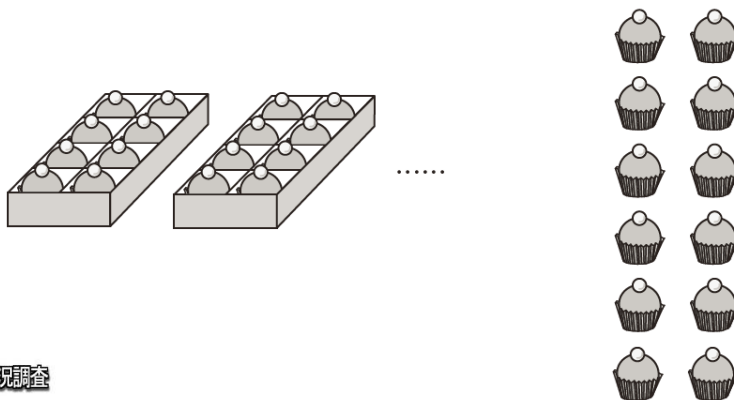
イ  $23 - \square = 15$

ウ  $23 + \square = 15$

エ  $\square + 23 = 15$

答え

(2) 60個のおかしを、1箱に8個ずつ入る箱に入れたところ、12個のおかしが  
のこりました。箱は何箱ありましたか。答えを書きましょう。レベル7



答え

箱

埼玉県学力学習状況調査



2 次の表は、4年1組と4年2組で、好きなスポーツとその人数を調べたものです。

レベル4・5

好きなスポーツと人数


クラス しゅもく 種目	4年1組	4年2組	合計(人)
野球	7	8	15
サッカー	8	9	17
バレーボール	3	5	8
ドッジボール	11	8	19
バスケットボール	4	7	11
その他	7	3	10
合計(人)	40	40	80

上の表をみたとき、次のアからエの中からまちがっているものを1つ選びましょう。

- ア 4年1組でドッジボールが好きな人の数は11人です。
- イ 4年2組で好きな人が一番多かったスポーツは、サッカーです。
- ウ 4年1組と4年2組の野球が好きな人の数の合計は17人です。
- エ その他をえらんだ人の数が多いクラスは、4年1組です。

答え

埼玉県学力学習状況調査



コバトン