

復習シート 第5学年 算数

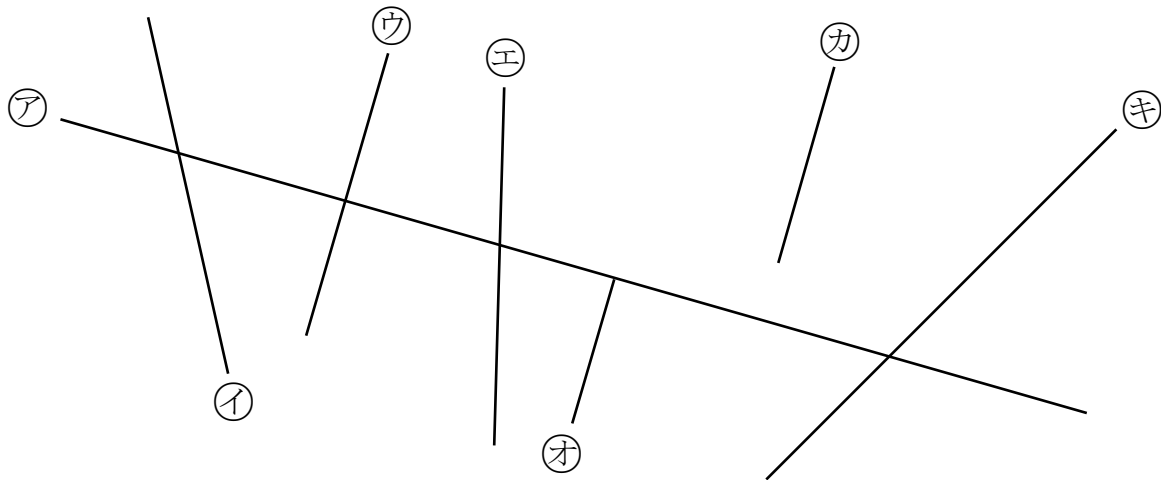


組		番 号		名 前	
---	--	--------	--	--------	--

（「図形」を問う問題）

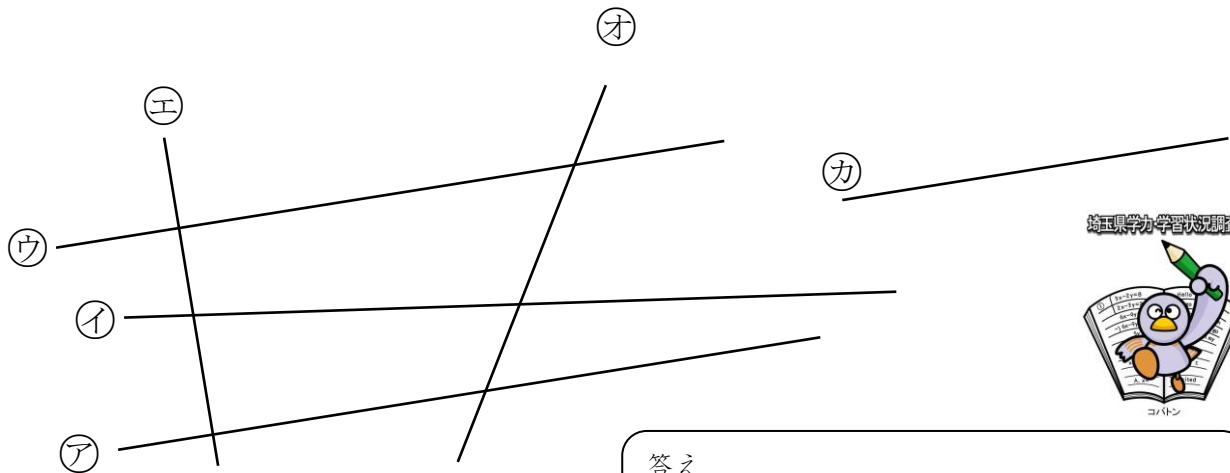
1 次の問題を解きなさい。 レベル5・6

（1）下の図で、 $\textcircled{ア}$ の直線に垂直な直線はどれですか。すべて書きなさい。



答え

（2）下の図で、 $\textcircled{ア}$ の直線に平行な直線はどれですか。すべて書きなさい。



答え

復習シート 第5学年 算数

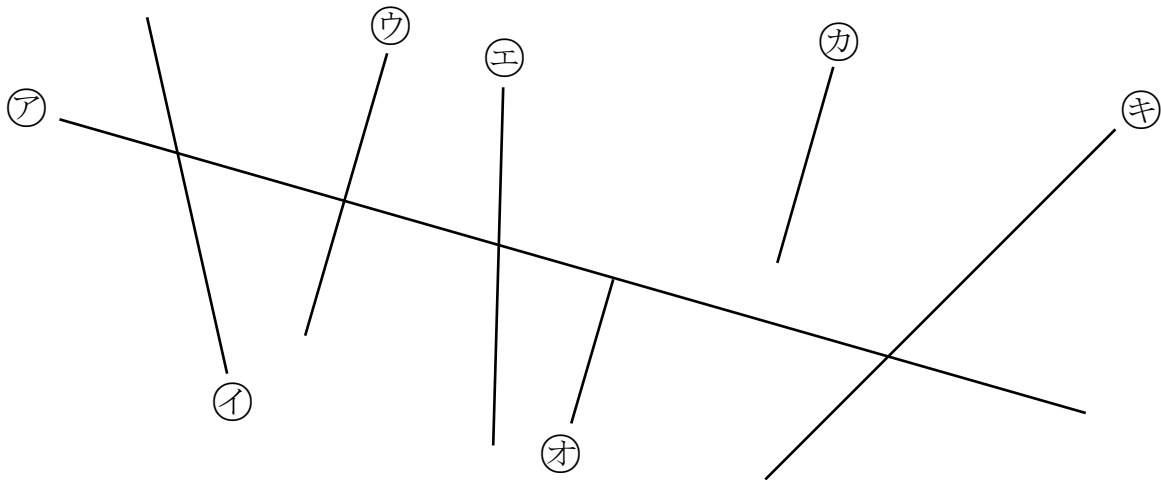


組		番号		名前	模範解答

（「図形」を問う問題）

1 次の問題を解きなさい。 レベル5・6

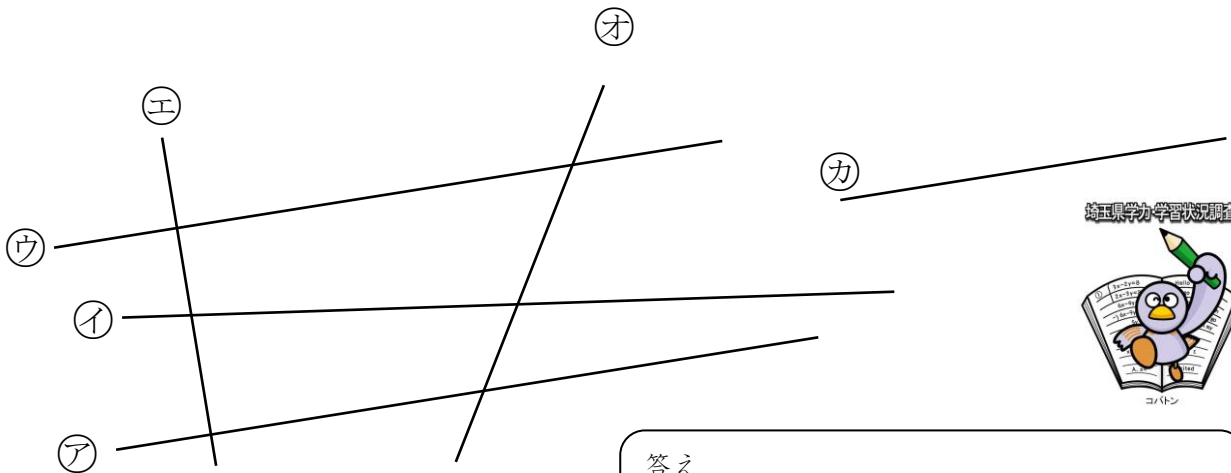
（1）下の図で、**ア**の直線に垂直な直線はどれですか。すべて書きなさい。



答え

ウ オ カ

（2）下の図で、**ア**の直線に平行な直線はどれですか。すべて書きなさい。



答え

ウ カ

