



復習シート 第4学年 算数

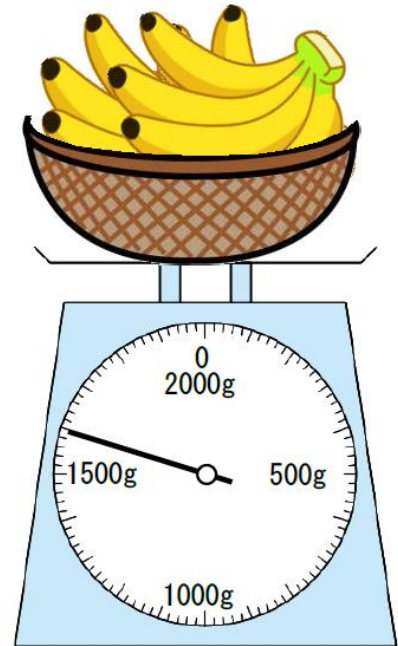
組		番号		名前	
---	--	----	--	----	--

（「量と測定」を問う問題）

1 次の問題を解きなさい。

レベル6・7（H30埼玉県学力・学習状況調査5・改）

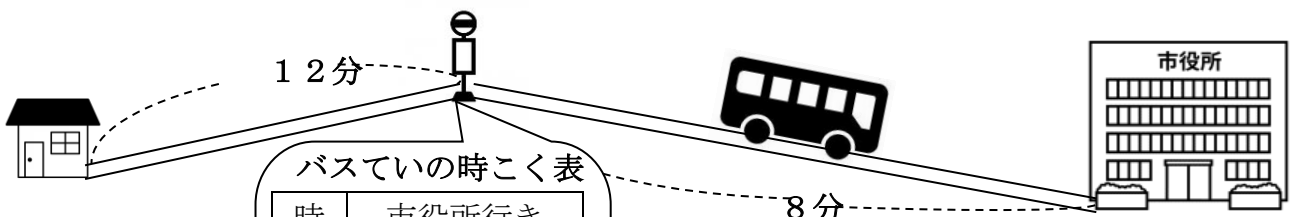
（1）重さ200gのかごにバナナをのせて、
重さをはかりではかったところ、右の図の
ようになりました。
バナナの重さは、何kg何gですか。



答え

kg g

（2）さちこさんは、家からバスにのって市役所までいくことになりました。
さちこさんの家からバスでいまでは、歩いて12分かかります。バスでいから市役所
まではバスで8分かかります。
8時50分に家を出ると、一番早く市役所に着くのは何時何分ですか。




バスでいの時こく表

時	市役所行き
7	40
8	10 25 40
9	10 25 40
10	10 25 40

答え

時 分



復習シート 第4学年 算数



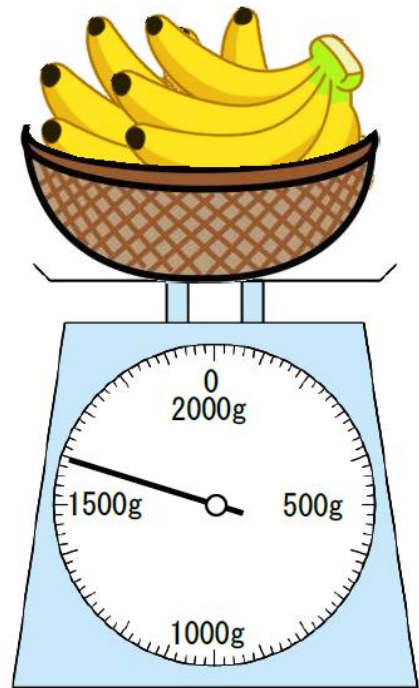
組		番号		名前	模範解答

（「量と測定」を問う問題）

1 次の問題を解きなさい。

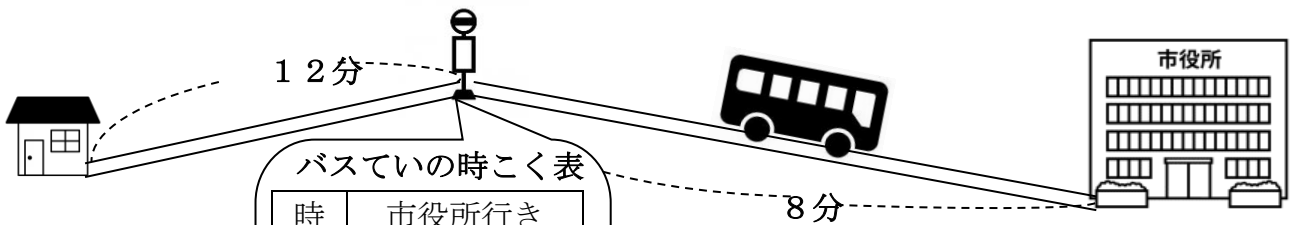
レベル6・7（H30埼玉県学力・学習状況調査**5**・改）

（1）重さ200gのかごにバナナをのせて、
重さをはかりではかったところ、右の図の
ようになりました。
バナナの重さは、何kg何gですか。



答え
1 kg 400 g

（2）さちこさんは、家からバスにのって市役所までいくことになりました。
さちこさんの家からバスでいまでは、歩いて12分かかります。バスでいから市役所
まではバスで8分かかります。
8時50分に家を出ると、一番早く市役所に着くのは何時何分ですか。



バスでいの時こく表

時	市役所行き
7	40
8	10 25 40
9	10 25 40
10	10 25 40

答え
9 時 18 分

